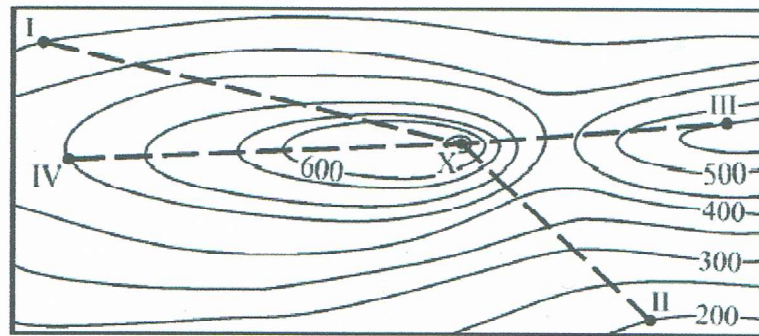


G.1.

ZAD. 1.)

Na mapie zaznaczono cztery trasy turystyczne z punktów I, II, III i IV na szczyt X.



X – szczyt 657 m n.p.m.

skala 1:20 000

Dokończ zdania. Wybierz właściwą odpowiedź spośród podanych.

A . Największą różnicę wysokości pokona turysta wędrujący na szczyt X z punktu

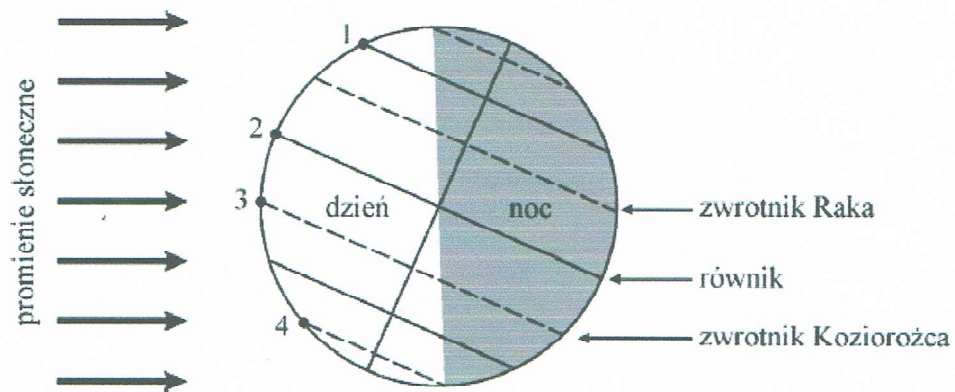
- A. I. B. II. C. III. D. IV.

B Przez przełęcz przejdzie turysta wędrujący na szczyt X z punktu

- A. I. B. II. C. III. D. IV.

ZAD. 2.)

Na rysunku przedstawiono oświetlenie Ziemi w dniu 22 grudnia oraz zaznaczono punkty 1–4.



Dokończ zdanie. Wybierz właściwą odpowiedź spośród podanych.

Zgodnie z rysunkiem, 22 grudnia dzień trwa 24 godziny w punkcie oznaczonym numerem

- A. 1. B. 2. C. 3. D. 4.

ZAD. 3.

Mateusz wysłał do rodziców pocztówkę z Kolobrzegu, na której napisał o pogodzie w ostatnich dniach lipca.

Przez ostatni tydzień niebo było całkowicie zachmurzone i padał deszcz. Nie można było kąpać się w morzu, ponieważ temperatura powietrza nie przekraczała 17 °C i wiał silny zachodni wiatr.

Dokończ zdanie. Wybierz właściwą odpowiedź spośród podanych.

Nad miejscowość, w której przebywał Mateusz, w ostatnich dniach lipca napływała masa powietrza

- A. polarnego morskiego.
- B. zwrotnikowego morskiego.
- C. polarnego kontynentalnego.
- D. zwrotnikowego kontynentalnego.

ZAD. 4.

W tabeli przedstawiono wybrane dane statystyczne dotyczące ludności Polski, Litwy i Słowacji w 2013 r.

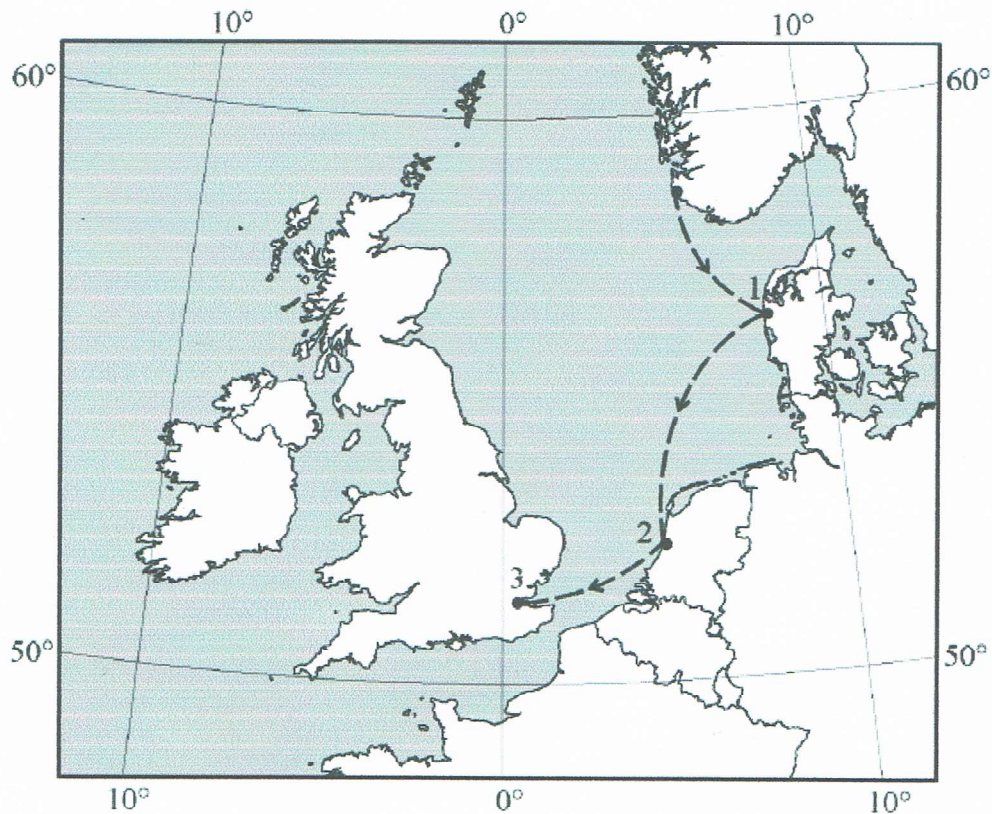
Państwo	Urodzenia	Zgony	Emigracja	Imigracja
	(na 1000 osób)		(osób)	
Polska	9.6	10.1	276 446	220 311
Litwa	10.1	14.0	38 818	22 011
Słowacja	10.1	9.6	2 770	5 149

Oceń prawdziwość podanych zdań. Wybierz P, jeśli zdanie jest prawdziwe, albo F – jeśli jest fałszywe.

W 2013 r. we wszystkich państwach wymienionych w tabeli przyrost naturalny był dodatni.	P	F
Na Słowacji migracje przyczyniły się do wzrostu liczby ludności tego państwa w 2013 r.	P	F

ZAD. 5.

Statek wyruszył z Norwegii w rejs po Morzu Północnym. Kolejne porty w państwach leżących nad Morzem Północnym, do których wpłynął statek, oznaczono na mapie numerami od 1 do 3.



W których państwach znajdują się porty oznaczone na mapie numerami od 1 do 3? Wybierz właściwą odpowiedź spośród podanych.

	1	2	3
A.	Belgia	Niemcy	Wielka Brytania
B.	Dania	Holandia	Wielka Brytania
C.	Dania	Niemcy	Szwecja
D.	Belgia	Holandia	Szwecja

ZAD. 6.

Poniższe informacje dotyczą wybranych cech środowiska przyrodniczego Japonii.

1. Położenie na granicy płyt litosfery.
2. Gęsta sieć rzeczna.
3. Przewaga obszarów górskich.
4. Dostęp do morza.
5. Klimat monsunowy.
6. Niewielkie zasoby surowców mineralnych.

W którym zestawie podano tylko te cechy środowiska przyrodniczego, które nie sprzyjają rozwojowi gospodarki Japonii? Wybierz właściwą odpowiedź spośród podanych.

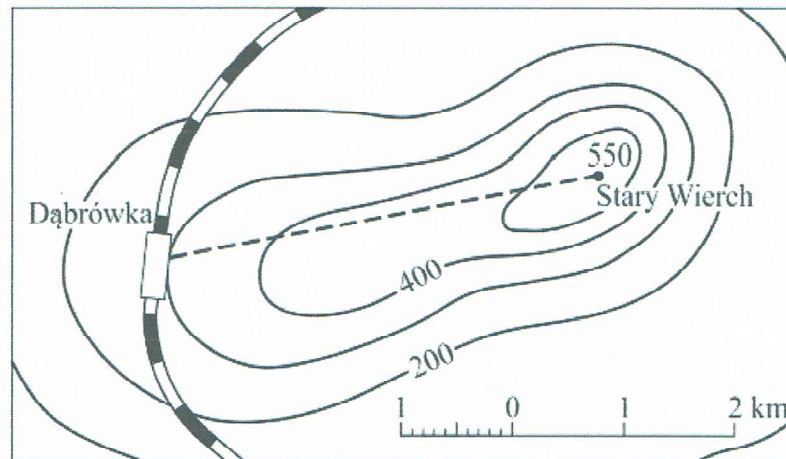
- A. 2, 3, 4
- B. 1, 5, 6
- C. 1, 3, 6
- D. 2, 4, 5

CZ. 2.

ZAD. 7.

Jacek wie, że na przejście w górach 1 km szlaku potrzeba około 15 minut i dodatkowo około 10 minut na pokonanie każdego 100 m wysokości.

Na mapie linią przerywaną zaznaczono trasę pieszej wycieczki ze stacji kolejowej Dąbrówka na szczyt Starego Wierchu.



Dokończ zdanie. Wybierz właściwą odpowiedź spośród podanych.

Na przejście zaznaczonej trasy wycieczki ze stacji kolejowej Dąbrówka na szczyt Starego Wierchu Jacek musi przeznaczyć około

- A. 45 minut.
- B. 60 minut.
- C. 85 minut.
- D. 115 minut.